

التاريخ: 2021/03/03  
المدة: 1 سا و 30 د

المادة: التربية العلمية  
المستوى: الرابعة ابتدائي

## اختبار الفصل الأول

الاسم واللقب: .....

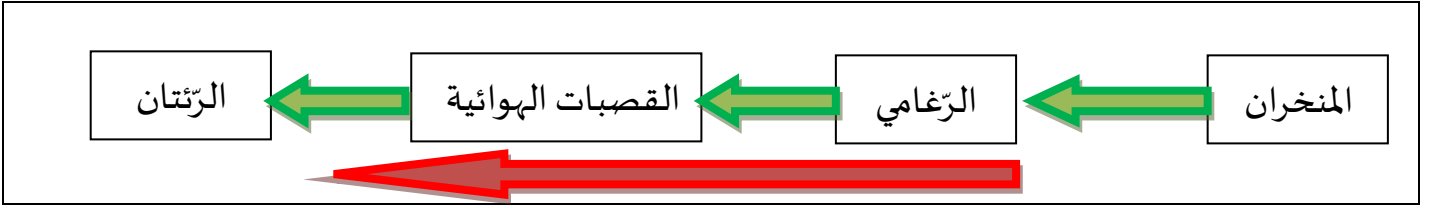
اقرا كل سؤال ثم أجب.

1) تمثل الحركات التنفسية في عمليتي الشهيق والزفير.

- ما هو هواء الشهيق؟

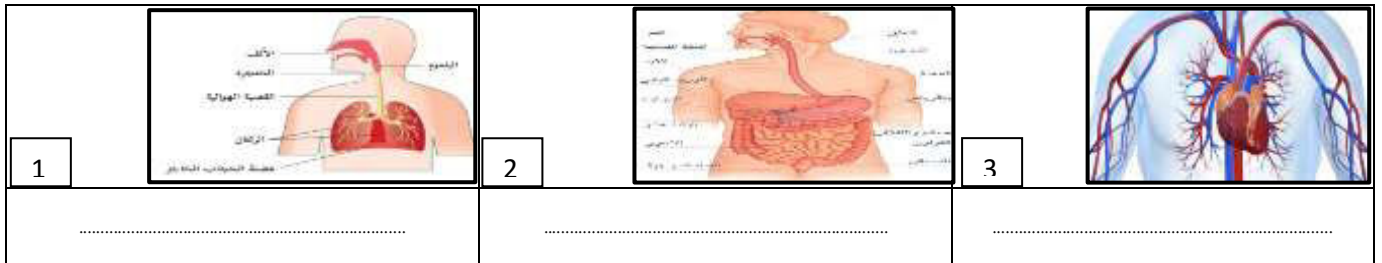
- ما هو هواء الزفير؟

2) يمثل التخطيط الآتي مسار دخول هواء الشهيق.



- ارسم التخطيط المعاكس له (مسار خروج هواء الزفير).

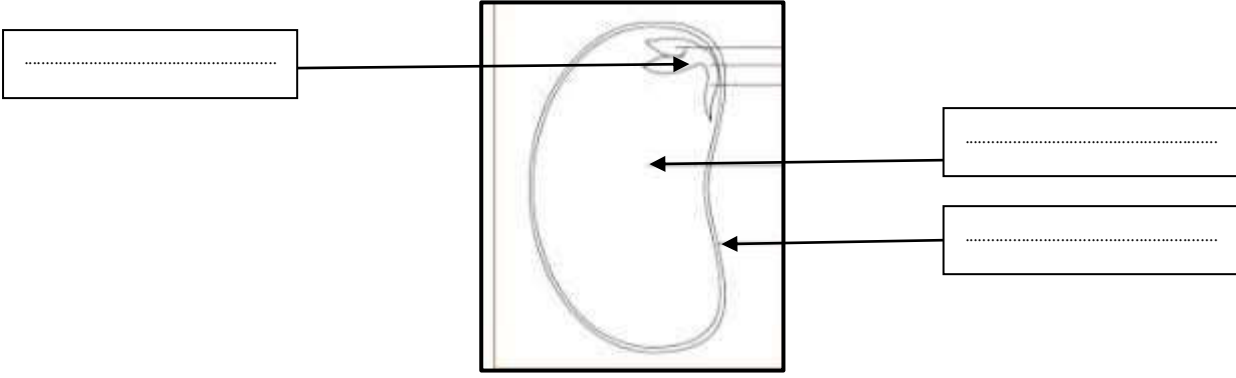
3) لاحظ الوثائق الآتية وسم كل واحدة منها.



- ما علاقة جهاز الوثيقة 3 بالجهازين 2 و 1

- أذكر الأساسي لكل جهاز.

4) ضع البيانات المناسبة لمكونات البذر:



### الوضعية الإدماجية:

كانت أمك تحضر الغذاء وفجأة أصابت إصبعها بسكين حاد، فسال دمها، لما رأيته هكذا قمت بمساعدتها لإيقاف النزيف.

-أذكر الخطوات التي اتبعتها.

.....

.....

.....

.....

.....