

المادة: الرياضيات
المستوى: الأولى ابتدائي

الاسم واللقب:
التاريخ:

تصحيح اختبار الفصل الأول

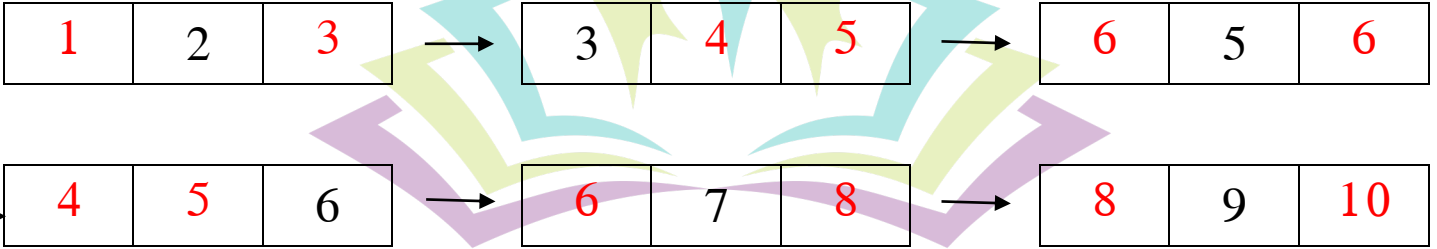
التمرين الأول:

أكمل الشريط العددي



التمرين الثاني:

أكمل العدد ناقص

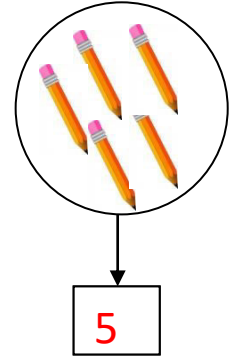
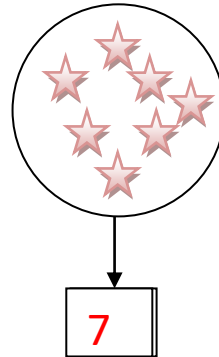
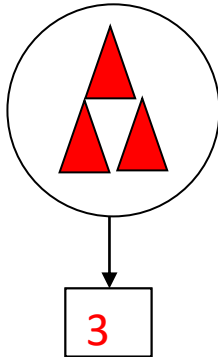
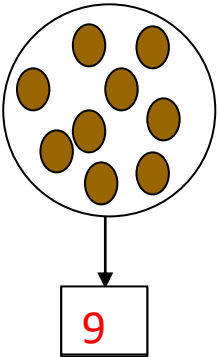


مدرسة "الرجاء والتفوق" الخاصة

Ecole Erradja wa Tafaouk
ÉCOLE PRIVÉE

التمرين الثالث:

أحسب وأكمل بالعدد المناسب



التّمرين الرَّابِع:

ألْوَنُ البِطَاقَةَ المُنَاسِبَةَ

5	أكبر من	5
	أصغر من	
	تساوي	

9	أكبر من	6
	أصغر من	
	تساوي	

5	أكبر من	8
	أصغر من	
	تساوي	

التّمرين الخَامِس:

أُنْجِزِ العَمَلِيَّاتِ

$5+3=8$	$4+4=8$	$3+6=9$	$0+3=3$
---------	---------	---------	---------

(0.5 علامة لنظافة الورقة)

