

الاسم واللقب: .....  
التاريخ: .....

المادة: الرياضيات  
المستوى: الأولى ابتدائي

## اختبار الفصل الأول

التمرين الأول:

أكمل الشريط العددي

0	.....	.....	.....	.....	.....	6	.....	.....	.....	10
---	-------	-------	-------	-------	-------	---	-------	-------	-------	----

التمرين الثاني:

أكمل العدد ناقص

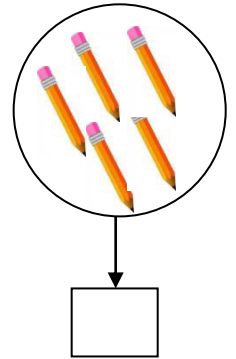
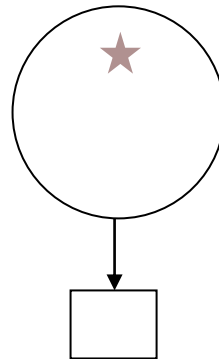
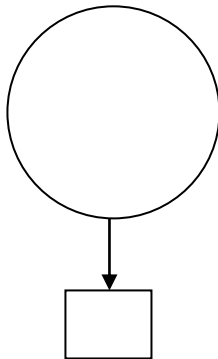
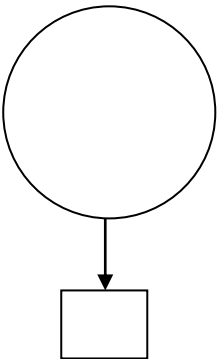
.....	2	.....	→	3	.....	.....	→	.....	5	.....
.....	.....	6	→	.....	7	.....	→	.....	9	.....

مدرسة "الرجاء والتفوق" الخاصة

Ecole Erradja wa Tafaouk  
ÉCOLE PRIVÉE

التمرين الثالث:

أحسب وأكمل بالعدد المناسب



## التّمرين الرَّابِع:

أُلَوِّنُ البِطَاقَةَ المُنَاسِبَةَ

5	أكبر من	5
	أصغر من	
	تساوي	

9	أكبر من	6
	أصغر من	
	تساوي	

5	أكبر من	8
	أصغر من	
	تساوي	

## التّمرين الخَامِس:

أُنجزُ العَمَلِيَّاتِ

$5+3=.....$	$4+4=.....$	$3+6=.....$	$0+3=.....$
-------------	-------------	-------------	-------------

(0.5 علامة لنظافة الورقة)

