

المادة: التربية المدنية
المستوى: الأول ابتدائي

الاسم واللقب:
التاريخ: 26/05/2022

تصحيح اختبار الفصل الثالث

التمرين الأول:





أجب بصحيح (ص) أو خطأ (خ).

خ
خ
ص
ص

- العُملةُ الوَطَنِيَّةُ هِيَ الدِّينَارُ التُّونِسِي
- تُوجَدُ نِقُودٌ وَرَقِيَّةٌ فَقط
- عُنْوَانُ التَّشِيدِ الوَطَنِي هُوَ قَسَمًا
- أَسْتَخْرِجُ البِطَاقَةَ المَدْرَسِيَّةَ مِنْ مَكْتَبِ المُدِير

التمرين الثاني:

أضع علامة (X) تحت صور وثائق الهوية

			
X	X		X

التمرين الثالث:

ألون عناصر البطاقة المدرسية.

الاسم واللقب

القامة


العنوان

تاريخ الميلاد

الصورة

الوزن

التّمرين الرَّابع:
أَلْوَنُ العَلَمِ الوَطَنِيِّ.



مدرسة "الرّجاء والتفوّق" الخاصّة

Ecole Erradja wa Tafaouk
ÉCOLE PRIVÉE