

المادة: الرياضيات

المستوى: الثانية ابتدائي

الاسم واللقب:

التاريخ: 2021/11/29

اختبار الفصل الأول

التّمرين الأول:

أكتب العدّد الذي يلي والعدّد الذي يسبق في كلّ خانة.

.....	59
-------	----	-------

.....	85
-------	----	-------

.....	21
-------	----	-------

التّمرين الثاني:

قارن بأحد الرّمزين: > <

86..... 32
16..... 61

79 97
54.....25

التّمرين الثالث:

أكمل ملء الجدول حسب المثال.

العدّد	الكتابة الجَمْعِيَّة	الكتابة بالحروف
52	$10+10+10+10+2$	إثنان وخمسون
37+.....+.....+.....
64+.....+.....+.....+.....+.....
19+.....




التّمرين الرابع:

رتّب الأعداد ترتيبًا صحيحًا.

17	24	47	54	31	68
.....					

التّمرين الخامس:

أُكْتُبِ اسْمَ كُلِّ مُضَلَّعٍ.

		
.....

الوضعيّة الإدماجية:

تُرِيدُ سَلْمَى شِرَاءَ قِصَّةٍ ثَمَنُهَا 73 دِينَارًا وَقَلَمًا ثَمَنُهُ 26 دِينَارًا.

كَمْ دَفَعَتْ لِلْبَائِعِ؟

الجواب

الحلّ

العملية

.....

دَفَعَتْ لِلْبَائِعِ: دينارًا

.	.
.	.
<hr/>	
=	.

Ecole Erradja wa Tataouk
ÉCOLE PRIVÉE