

المادة: الرياضيات

المستوى : الثانية ابتدائي

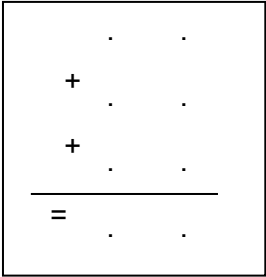

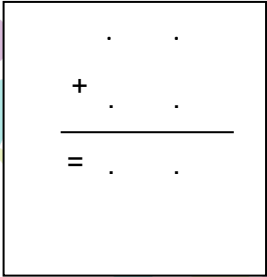
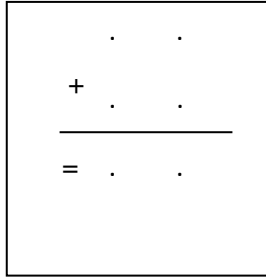
الاسم واللقب:

التاريخ: 2022/03/14

اختبار الفصل الثاني

التّمرين الأول:

أحسب عمودياً.

$13+5 + 6 = \dots\dots\dots$	$37 + 43 = \dots\dots\dots$	$61 + 92 = \dots\dots\dots$	$28 + 32 = \dots\dots\dots$
			

التّمرين الثاني:

أ) أحصر بين عَشْرَتَيْنِ مُتتَالِيَتَيْنِ. "الرجاء والتفوق" الخاصة

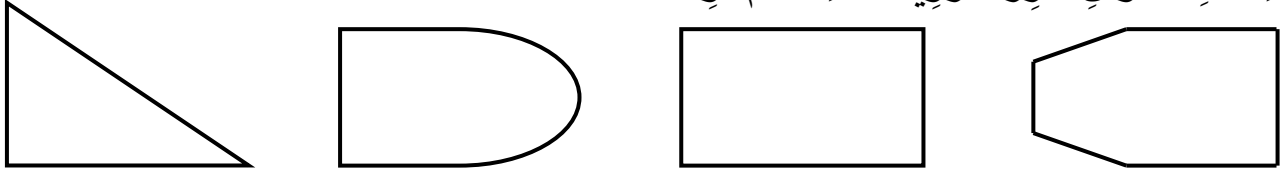
..... < 651 <
..... < 267 <
..... < 128 <
..... < 449 <

ب) أحصر بين مِئَتَيْنِ مُتتَالِيَتَيْنِ.

..... < 567 <
..... < 375 <
..... < 739 <
..... < 130 <

التّمرين الثالث:


بِاسْتِعْمَالِ الْكُوسِ أَبْرِزِ الزَّوَيَةَ الْقَائِمَةَ ثُمَّ لَوْنُهَا.



التّمرين الرابع:

رَتِّبِ الأَعْدَادَ تَرْتِيبًا صَحِيحًا.

281 – 125 – 730 – 360 – 551 – 400



التّمرين الخامس:

اُكْتُبِ الأَعْدَادَ بِالْأَرْقَامِ وَبِالْحُرُوفِ.

م	ع	و
.....
.....

الْوَضْعِيَّةُ الْمُشْكَلَةُ:

تَمَلِكُ لَيْلَى 14 قُرَيْصَةً، قَالَتْ لَهَا صَدِيقَتُهَا مَنَالُ: "أَنَا عِنْدِي ضِعْفُ مَا عِنْدَكَ مِنَ الْقُرَيْصَاتِ".
كَمْ قُرَيْصَةً تَمَلِكُ مَنَالُ؟

الجواب

الحل

العملية

..... =

تَمَلِكُ مَنَالُ قُرَيْصَةً.

.	.
+	.
<hr/>	
.	.

=

(1+ على حسن الخط ونظافة الورقة)