

المادة: الرياضيات
المستوى: الثانية ابتدائي

الاسم واللقب:
التاريخ: 2022/05/26

تصحيح اختبار الفصل الثالث

التمرين الأول:

أحسب عمودياً

$99 - 55 = \dots$	$62 - 47 = \dots$	$33 - 19 = \dots$	$58 - 56 = \dots$
$\begin{array}{r} 99 \\ - 55 \\ \hline = 44 \end{array}$	$\begin{array}{r} 62 \\ - 47 \\ \hline = 15 \end{array}$	$\begin{array}{r} 33 \\ - 19 \\ \hline = 14 \end{array}$	$\begin{array}{r} 58 \\ - 56 \\ \hline = 02 \end{array}$

التمرين الثاني:

مدرسة "الرجاء والتفوق" الخاصة

رتب الأعداد ترتيباً صحيحاً.

277 - 761 - 82 - 309 - 180 - 510

→ 82 - 180 - 277 - 309 - 510 - 761

التمرين الثالث:

قارن بأحد الرموز < أو > أو =

$$235 < 253$$

$$94 = 39 + 55$$

$$502 > 205$$

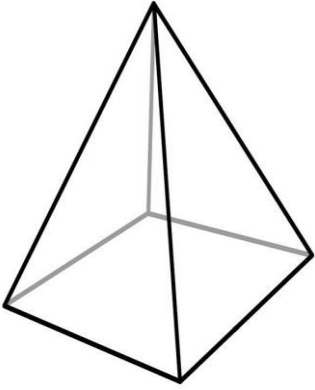

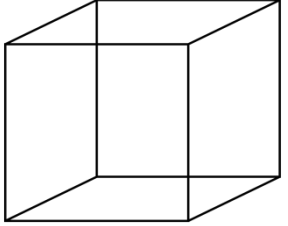
$$189 > 150$$

$$888 < 999$$

$$290 = 90 + 200$$

التّمرين الرَّابِع:

سَمِّ الْمُجَسَّمَاتِ التَّالِيَةَ.

		
هَرَمٌ	أُسْطُوَانَةٌ	مُكْعَبٌ

الْوَضْعِيَّةُ الْإِدْمَاجِيَّةُ:

إشترى فاكهاني 5 صناديق من البرتقال، في كلِّ صندوقٍ 30 حبةً.

- ما هو عددُ كلِّ حباتِ البرتقالِ التي اشتراها الفاكهاني؟

مدرسة "الرجاء والتفوق" النخبة

$$\begin{array}{r} 5 \\ \times 30 \\ \hline 150 \\ \hline \end{array}$$

عددُ كلِّ حباتِ البرتقالِ التي اشتراها الفاكهاني هو 150 حبةً.

(+1 على الكتابة ونظافة الورقة)