

المادة: التربية العلمية
المستوى: الثالثة ابتدائي

الاسم واللقب:
التاريخ: 2022/05/29

تصحيح اختبار الفصل الثالث

الوضعية الإدماجية:

في عطلة نهاية الأسبوع، ذهبت مع عائلتي إلى مشتلة. فرأيت الكثير من النباتات الخضراء. افترت من صاحب المشتل فزودك بمعلومات حول النبات الأخضر. استعن بهذه المعلومات وما درستهُ ثم أجب عن الأسئلة التالية.






-أولاً:

تتكاثر النباتات الظاهرة في الصور عن طريق:

			
الفَسَائِل	الأبصال	الدَّرَات	البُدُور

-ثانياً:

رتب مراحل نمو النبات ذي الأزهار بوضع الأرقام من 1 إلى 5

				
4	1	3	5	2

-ثالثًا:

- الماءُ عُنْصُرٌ أَساسِيٌّ لِنُموِّ النَّبَاتِ

أذْكَرُ ثَلَاثَةَ مَصَادِرَ لِلْمَاءِ.

1-البَحَار

2-الآبَار

3-السُّدُود

-رابعًا:

فَتَحَّتِ الحَنَفِيَّةُ لِتَسْقِي نَبْتَهُ فَوَجَدَتْ الماءَ مَقْطُوعًا.

كَيْفَ يَصِلُ الماءُ إِلَى الحَنَفِيَّةِ؟

يَصِلُنَا الماءُ الشَّرُوبُ مُتَّبِعًا مَسَارًا طَوِيلًا عَبْرَ شَبَكَةِ التَّوْزِيعِ المُتَكَوِّنَةِ مِنْ خَزَائِنٍ وَأَنْبِيَبٍ وَتَوْصِيَلَاتٍ مُخْتَلِفَةٍ وَعَدَّادٍ يَقِيسُ كَمِيَّةَ الماءِ المُسْتَهْلَكِ وَصِمَامَاتٍ لِتَنْظِيمِ تَوْزِيعِ الماءِ.

مدرسة "الرجاء والتفوق" الخاصة

Ecole Erradja wa Tafaouk

ÉCOLE PRIVÉE