

المادة: التربية العلمية
المستوى: الثالثة ابتدائي

الاسم واللقب:
التاريخ: 2022/05/29

اختبار الفصل الثالث

الوضعية الإدماجية:

في عطلة نهاية الأسبوع، ذهبت مع عائلتي إلى مشتلة. فرأيت الكثير من النباتات الخضراء. اقتربت من صاحب المشتل فزودك بمعلومات حول النبات الأخضر. استعن بهذه المعلومات وما درستهُ ثم أجب عن الأسئلة التالية.






-أولاً:

تتكاثر النباتات الظاهرة في الصور عن طريق:

			
.....

-ثانياً:

رتب مراحل نمو النبات ذي الأزهار بوضع الأزقَامِ مِنْ 1 إلى 5

				
.....

-ثالثًا:

- الماء عُنْصُرٌ أَساسِيٌّ لِنُموِّ النَّبَاتِ

أذْكَرُ ثَلَاثَةَ مَصَادِرَ لِلْمَاءِ.

.....-1

.....-2

.....-3

-رابعًا:

فَتَحَّتِ الحَنَفِيَّةُ لِتَسْقِي نَبْتَهُ فَوَجَدَتِ الماءَ مَقْطُوعًا.

كَيْفَ يَصِلُ الماءُ إِلَى الحَنَفِيَّةِ؟

.....الْمُتَكَوِّنَةُ مِنْ

عَبْرَ

.....يَصِلُنَا الماءُ الشَّرُوبُ مُتَّبِعًا

.....يَقِيسُ كَمِّيَّةَ الماءِ

مُخْتَلِفَةً وَ

وَ

لِتَنْظِيمِ تَوْزِيعِ الماءِ.

.....المُسْتَهْلِكِ وَ

مدرسة "الرجاء والتفوق" الخاصة

Ecole Erradja wa Tafaouk

ÉCOLE PRIVÉE