

المادة: التربية العلمية  
المستوى: الثالثة ابتدائي

الاسم واللقب: .....  
التاريخ: 2022/12/08

## اختبار الفصل الأول

### التّمرين الأول:

أجب بصحيح أو خطأ أمام كل عبارة:




- القلب لا ينبض باستمرار بل من حين لآخر. (.....)
- سوء التغذية يسبب الهزال. (.....)
- الإكثار من أكل الحلويات يسبب السمنة. (.....)
- يوجد القلب في الجهة اليمنى من الصدر. (.....)
- تُصنّف الأغذية إلى أربع مجموعات. (.....)

### التّمرين الثاني:

اربط الغذاء بالمجموعة الغذائية التي ينتمي إليها:

مدرسة "الرجاء والتفوق" الخاصة

Ecole Erradja wa Tafaouk  
ÉCOLE PRIVÉE




مجموعة الحليب ومشتقاته

مجموعة اللحوم

مجموعة الزيوت والدهون

مجموعة الخضار والفواكه



## التّمرين الثالث:

صِلْ كُلَّ رَسْمٍ بِالْبِطَاقَةِ الْمُنَاسِبَةِ:



نَبْضَاتُ الْقَلْبِ  
عَادِيَّةٌ

نَبْضَاتُ الْقَلْبِ  
سَرِيعَةٌ



Ecole Erradja wa Tafaouk  
ÉCOLE PRIVÉE

## التّمرين الرابع:

مُحَمَّدٌ طِفْلٌ فِي الثَّامِنَةِ مِنْ عُمُرِهِ، غِذَاؤُهُ الْمُفْضَلُ هُوَ الْوَجَبَاتُ السَّرِيعَةُ الَّتِي تُبَاعُ فِي الْمَحَلَّاتِ،  
حَتَّى أَصْبَحَ مُدْمِنًا عَلَيْهَا وَشَكَّلَتْ لَهُ مَشَاكِلَ صِحِّيَّةً.  
- مَا هُوَ الْمَرَضُ الَّذِي أَصَابَ مُحَمَّدًا؟



- اذْكَرْ بَعْضَ الْأَطْعِمَةِ غَيْرِ الصِّحِّيَّةِ الَّتِي يَتَنَاوَلُهَا مُحَمَّدٌ؟

(1)

(2)

(3)