

المادة: الرياضيات
المستوى: الأولى ابتدائي

الاسم واللقب:
التاريخ: 2023/03/06

تصحيح اختبار الفصل الثاني

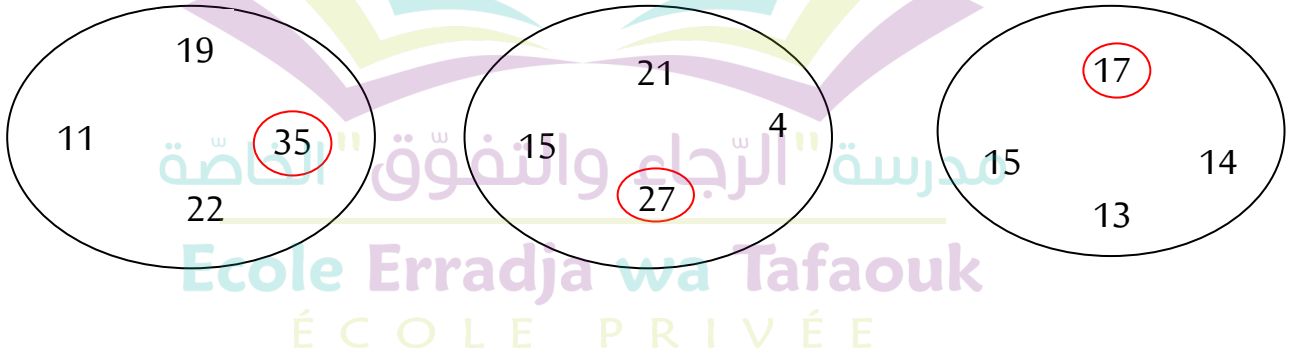
التمرين الأول:

أكمل الشريط العدديّ.



التمرين الثاني:

أحطّ أكبر عددٍ في كلّ مجموعةٍ.



التمرين الثالث:

أكتب العدد الذي يسبق والعدد الذي يلي.

14	15	16
----	----	----

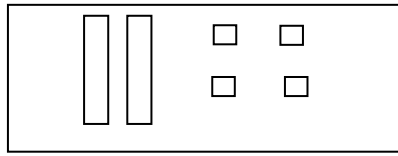
31	32	33
----	----	----

8	9	10
---	---	----

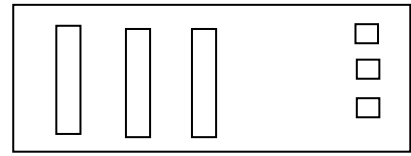
22	23	24
----	----	----

التّمرين الرَّابِع:

أكْمِلْ مَلءِ الجَدْوَلِ بِمَا يَناسِب.



ع	و
2	4



ع	و
3	3

التّمرين الخَامِس:

- أَكْتُبِ ضِعْفَ كُلِّ عَدَدٍ

1	2	3	4	5	6	7
2	4	6	8	10	12	14

التّمرين السّادِس:

أَحْسِبْ مَا يَلِي:

$19 + 1 = 20$	$20 - 1 = 19$
$30 + 3 = 33$	$8 - 4 = 4$

(1 نقطة لنظافة الورقة)