

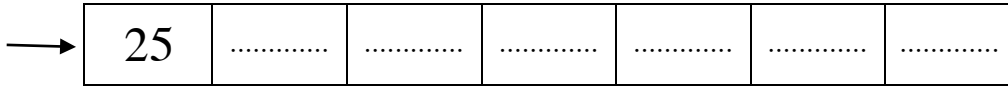
المادة: الرياضيات
المستوى: الأولى ابتدائي

الاسم واللقب:
التاريخ: 2023/03/06

اختبار الفصل الثاني

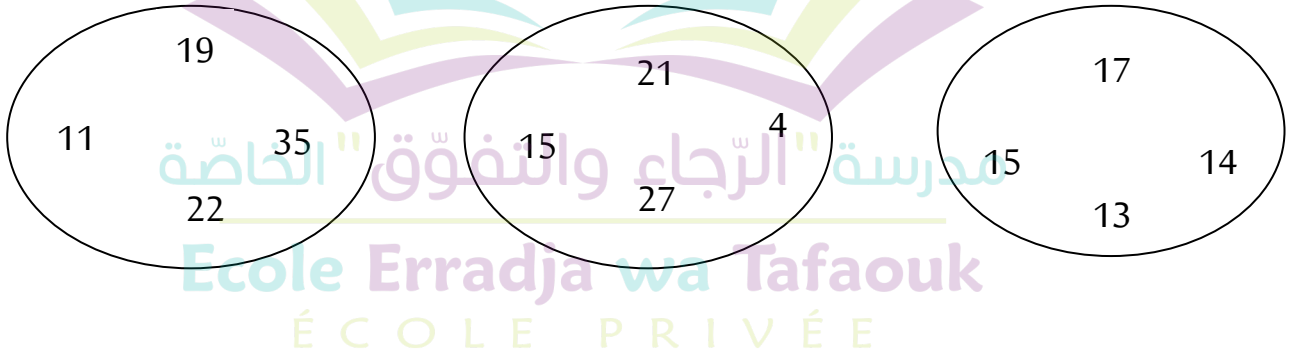
التمرين الأول:

أكمل الشريط العدديّ.



التمرين الثاني:

أحوط أكبر عدد في كل مجموعة.



التمرين الثالث:

أكتب العدد الذي يسبق والعدد الذي يلي.

..... 15

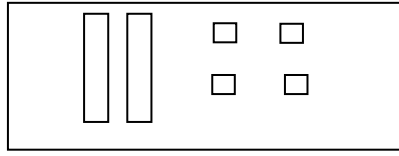
31

..... 9

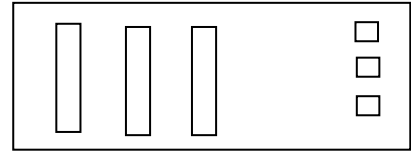
..... 23 24

التّمرين الرَّابِع:

أكْمِلْ مَلءِ الجَدْوَلِ بِمَا يَناسِب.



ع	و
.....



ع	و
.....

التّمرين الرَّابِع:

- أَكْتُبْ ضِعْفَ كُلِّ عَدَدٍ

1	2	3	4	5	6	7
.....

التّمرين السّادس:

أحْسِبْ مَا يَلِي:

$19 + 1 = \dots\dots\dots$	$20 - 1 = \dots\dots\dots$
$30 + 3 = \dots\dots\dots$	$8 - 4 = \dots\dots\dots$

(1 نقطة لنظافة الورقة)