

المادة: الرياضيات
المستوى: الثانية ابتدائي

الاسم واللقب:
التاريخ: 2023/03/06

اختبار الفصل الثاني

التمرين الأول:

- أحسب المجاميع التالية عمودياً.

$49+35=.....$	$53+46=.....$	$38+42=.....$	$75+22=.....$

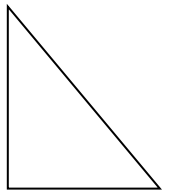

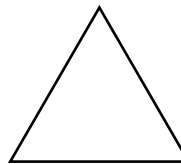


التمرين الثاني:

- اكمل الجدول بما يناسبه.

نصفه	العدد	ضعفه
.....	46
.....	52
.....	8

التمرين الثالث:

- لَوِّن المَضَلَعَات وَحَدِّد الزَوَايَا القَائِمَةَ.



التّمرين الرَّابِع:

أَكْمِلْ مَلءَ الْجَدْوَلِ.

العدد	الكتابة بالحروف	تفكيك العدد	عدد العشرات
148
.....
.....	300+00+9
699

الوضعية الإدماجية:

يملك فلاح سلتين من البيض، في السلة الأولى 49 بيضة، وفي السلة الثانية 45 بيضة.

- كم بيضة توجد في السلتين معاً؟

وجد الفلاح 24 بيضة مكسورة؟

- كم بيضة بقيت للفلاح؟

مدرسة "الرجاء والتفوق" الخاصة

Ecole Erradja wa Tafaouk

ÉCOLE RIVÉE

الحل

الجواب

العملية