




المادة: تاريخ  
المستوى: الثالثة ابتدائي

الاسم واللقب: .....  
التاريخ: 2023/03/09

## تصحيح اختبار الفصل الثاني

### التمرين الأول:

ضع عنوانًا لكل صورة.

		
أدوات حجريّة	ضريح إمدغاسن	نقوش صخرية

### التمرين الثاني:

صنّف نشاط الإنسان حسب كل مرحلة.   
السكن في الكهوف والمغارات - اكتشاف الكتابة - ممارسة الصيد - التنقل من أجل البقاء - ممارسة الزراعة  
السكن في الأكواخ.

المرحلة التاريخية	مرحلة ما قبل التاريخ
اكتشاف الكتابة	السكن في الكهوف
ممارسة الزراعة	ممارسة الصيد
السكن في الأكواخ	التنقل من أجل البقاء

## التّمرين الثالث:

لقد خَلَفَ الإنسانُ فِي العُصُورِ القَدِيمَةِ عدَّةَ آثارٍ.

-عرّف الآثار؟

الآثار هي كُلُّ مُخَلَّقاتِ الإنسانِ فِي العَصْرِ القَدِيمِ.

-أذكر نوعين من هذه الآثار مع تعريفهما.

النوع الأول: المسكوكات هي قطع نقدية معدنية تحمل خاتماً من السلطة الحاكمة.

النوع الثاني: المخطوطات هي كتابات على ورق بُردي.

