

التاريخ: 2019/03/06  
المدة: 1 ساو 30د

## اختبار الفصل الثاني

المادة: التربية العلمية  
المستوى: الرابعة ابتدائي

الاسم واللقب: .....

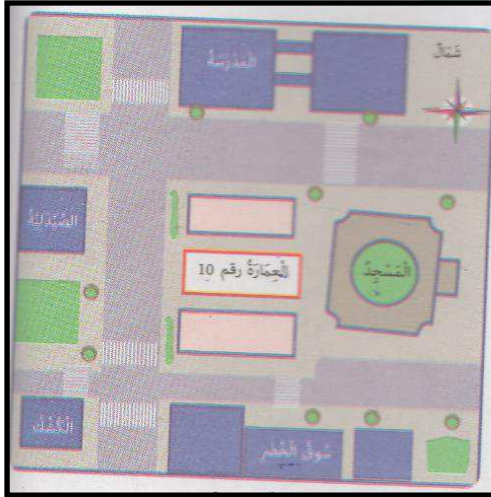
### التمرين الأول:

قُمتَ بتجريبية، حيث وضعت بذورا في القطن.  
ماهي الشروط التي وفرتها لها حتى تُنتش سليلة.

### التمرين الثاني:

حدّد الجهة الخاصة حسب المخطط العمراني:


- المسجد يقع.....العمارة رقم 10
- سوق الخضري يقع.....المدرسة.
- المدرسة تقع.....العمارة رقم 10
- الصيدلية تقع.....المسجد.



### التمرين الثالث:

لاحظ الوثيقة ثم ضع كل رقم أمام العبارة المناسبة:

- \*نقص الفسفور.
- \*نقص الأزوت.
- \*ورقة نبات عادي.
- \*نقص البوتاسيوم.




4 3 2 1

### التمرين الرابع:

نستهلك كل يوم كميات من الماء في الشرب والغسل ومختلف لاستعمالات. من أين تأتي المياه؟

## التّمرين الخامس:

أكتب قصّة عن قطرة الماء، مستعينًا بالصّورة المبينة لذلك.



مدرسة "الرجاء والتفوق" الخاصة

Ecole Erradja wa Tafaouk

ÉCOLE PRIVÉE