

المادة: الرياضيات
المستوى: الثانية ابتدائي

الاسم واللقب:
التاريخ: الإثنين 2023/12/04

تصحيح اختبار الفصل الأول

التمرين الأول:

(1) اكتب بالحروف أو بالأرقام:

الكتابة بالحروف	الكتابة بالأرقام
أربعة و ثلاثون	34
خمسة و ستون.	65

(2) أكمل كما في المثال:

$$39 = 10 + 10 + 10 + 9$$

$$48 = 10 + 10 + 10 + 10 + 8$$

$$67 = 10 + 10 + 10 + 10 + 10 + 10 + 7$$

التمرين الثاني:

(1) رتب الأعداد الآتية ترتيباً تنازلياً:

$$(75 - 38 - 89 - 68 - 18)$$

$$\rightarrow 89 > 75 > 68 > 38 > 18$$

(2) قارن باستعمال أحد الرمزین < أو > :

25	>	17
36	>	28

23	<	29
8	<	18

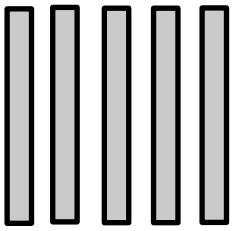


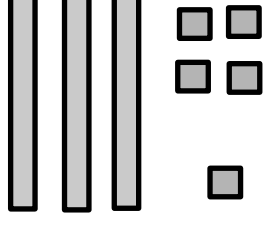
3) أَكْمِلِ بِالْعَدَدِ الَّذِي يَسْبِقُ وَالْعَدَدِ الَّذِي يَلِي:

34	35	36
61	62	63

17	18	19
26	27	28

التمرين الثالث:

3) أَكْمِلِ مَلَأَ الْجَدْوَل:

			
العَدَدُ هُوَ: 50	العَدَدُ هُوَ: 47	العَدَدُ هُوَ: 62	العَدَدُ هُوَ: 35

مدرسة "الرجاء والتفوق" الخاصة

الوضعية الإدماجية: Ecole Erradja wa Tafaouk

ÉCOLE P. تَمْلِكُ وِدَادُ 24 كُرْيَةً، وَتَمْلِكُ مَرْيَمُ 7 كُرْيَاتٍ.

مَا هُوَ عَدَدُ الْكُرْيَاتِ الَّتِي تَمْلِكُهَا وِدَادُ وَمَرْيَمُ مَعًا؟

$$24+7=31$$

تَمْلِكُ وِدَادُ وَ مَرْيَمُ مَعًا 31 كُرْيَةً