

المادة: الرياضيات
المستوى: الثانية ابتدائي

الاسم واللقب:

التاريخ: الإثنين 2023/12/04

اختبار الفصل الأول

التمرين الأول:

(1) اكتب بالحروف أو بالأرقام:

الكتابة بالأرقام	الكتابة بالحروف
34
.....	خمسَة و ستون.

(2) أكمل كما في المثال:

$$39 = 10 + 10 + 10 + 9$$

$$48 = \dots + \dots + \dots + \dots + \dots$$

$$67 = \dots + \dots + \dots + \dots + \dots + \dots + \dots$$

التمرين الثاني: مدرسة "الرجاء والتفوق" الخاصة

(1) رتب الأعداد الآتية ترتيباً تنازلياً:
(18 - 68 - 89 - 38 - 75)



(2) قارن باستعمال أحد الرمزین < أو > :

25	.	17
36	.	28

23	.	29
8	.	18


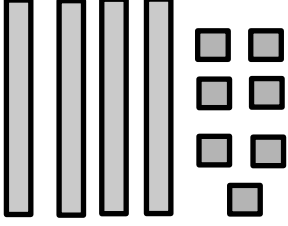
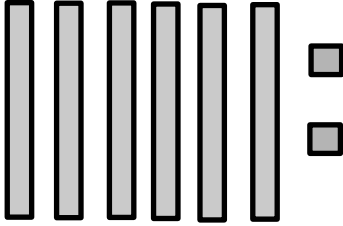
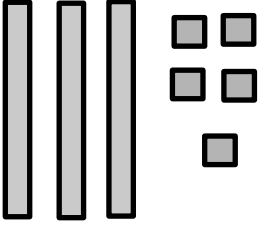
(3) أكمل بالعدد الذي يسبق والعدد الذي يلي:

.	35	.
.	62	.

.	18	.
.	27	.

التّمرين الثالث:

(3) أكْمِلْ مَلءَ الْجَدْوَلِ:

			
العَدَدُ هُوَ:	العَدَدُ هُوَ:	العَدَدُ هُوَ:	العَدَدُ هُوَ:

الوضعية الإدماجية:

تَمَلِكُ وِدَادُ 24 كُرِّيَّةً، وَتَمَلِكُ مَرْيَمُ 7 كُرِّيَّاتٍ.
مَا هُوَ عَدَدُ الكُرِّيَّاتِ الَّتِي تَمَلِكُهَا وِدَادُ وَمَرْيَمُ مَعًا؟

مدرسة "الرجاء والتفوق" الخاصة

Ecole Erradja wa Tafaouk

ÉCOLE PRIVÉE

تَمَلِكُ وِدَادُ وَ مَرْيَمُ مَعًا كُرِّيَّةً