

المادة: التربية العلمية
المستوى: الثانية ابتدائي

الاسم واللقب:

التاريخ: الأربعاء 2023/12/06

اختبار الفصل الأول





التمرين الأول:

أجب بصحيح أو خطأ فيما يلي:

- (1) التنفس يكون في الليل فقط. (.....)
- (2) ممارسة الرياضة مفيدة للعقل والجسم. (.....)
- (3) عندما يدخل الهواء إلى جسمي ينخفض صدري. (.....)

التمرين الثاني:

رتب مراحل نمو الإنسان بالأرقام:

			
.....

التمرين الثالث:

صنف في الجدول التالي الأغذية الصحية والأغذية غير الصحية:

بطاطا مقليّة - لحم - تفاح - شوكولاتة - خضروات - مشروبات غازية

الأغذية غير الصحية	الأغذية الصحية
.....
.....

الوضعية الإدماجية:

ذَهَبَتْ فِي رِحْلَةٍ إِلَى مَشْتَلَةٍ فَرَأَيْتَ الْكَثِيرَ مِنَ النَّبَاتِ، مَا جَعَلَكَ تَتَسَاءَلُ عَنْ مَاذَا
تَحْتَاجُهُ النَّبْتَةُ لِكَيْ تَنْمُو، فَأَجَابَكَ صَاحِبُ الْمَشْتَلَةِ.

لَوْنُ الْعُنَاصِرِ اللَّازِمَةِ لِنُموِّ النَّبْتَةِ حَسَبَ مَا ذَكَرَهُ لَكَ صَاحِبُ الْمَشْتَلَةِ:

زَيْتٌ

شَمْسٌ

بُذُورٌ

المَاءُ

الرَّفْشُ

التُّرْبَةُ

